



**EVALUAREA COMPETENȚELOR FUNDAMENTALE
LA FINALUL CLASEI a II-a
2014**

Model de test

MATEMATICĂ

Școli cu predare în limbile minorităților naționale

Județul / sectorul.....

Localitatea.....

Școala.....

Numele și prenumele elevei / elevului.....

.....

Clasa a II-a.....

Băiat

Fată

Cod școală.....

Mihály, Veronka, András és Anna ugyanazt a 250 oldalas könyvet olvassák. Eddig mindenik gyerek elolvasott néhány oldalt a következőképpen:

Mihály



158 oldal

András



95 oldal

Veronka



236 oldal

Anna



97 oldal

1. Melyik a gyerekek sorrendje, figyelembe véve az elolvasott oldalak számát?
Karikázd be a helyes válasznak megfelelő betűt!

- a) Veronka, András, Anna, Mihály
- b) Veronka, Anna, Mihály, András
- c) Veronka, Mihály, Anna, András
- d) Veronka, Mihály, András, Anna

Nu se completează de către elev
COD

1.	<input type="text"/>
----	----------------------

2. Hányas számú az utolsóelőtti oldal, amelyet Veronka elolvasott?
Karikázd be a helyes válasznak megfelelő betűt!

- a) 157
- b) 230
- c) 235
- d) 237

Nu se completează de către elev
COD

2.

3. Ki szeretnének számolni, hogy hány oldalt olvasott el Veronka és Mihály összesen. Az alábbi műveletek közül melyiket kell elvégezni?

Karikázd be a helyes válasznak megfelelő betűt!

- a) $97 + 158$
- b) $236 + 158$
- c) $158 - 97$
- d) $236 - 158$

Nu se completează de către elev
COD

3.

4. Hány oldalt kell még Anna elolvasson ahhoz, hogy elérkezzen a 100. oldalhoz?
Karikázd be a helyes válasznak megfelelő betűt!

- a) 2
- b) 3
- c) 197
- d) 250

Nu se completează de către elev
COD

4.

5. A gyerekek két hetet és két napot olvastak. Hány napot olvastak?
Karikázd be a helyes válasznak megfelelő betűt!

- a) 12 nap
- b) 14 nap
- c) 16 nap
- d) 18 nap

Nu se completează de către elev
COD

5.	<input type="text"/>
----	----------------------

6. Veronkának még 14 oldalt kell elolvasnia. Naponta 7 oldalt szeretne elolvasni. Hány nap alatt fogja elolvasni az egész a könyvet?
Karikázd be a helyes válasznak megfelelő betűt!

- a) 1 nap
- b) 2 nap
- c) 12 nap
- d) 22 nap

Nu se completează de către elev

COD

6.	<input type="text"/>
----	----------------------

7. Milyen síkidommal rajzolnád le a könyv fedőlapját?
Karikázd be a helyes válasznak megfelelő betűt!

- a) egy körrel
- b) egy négyzettel
- c) egy háromszöggel
- d) egy téglalappal

Nu se completează de către elev
COD

7.	<input type="text"/>
----	----------------------

8. A gyerekek közül ki olvasott többet 158 oldalnál?
Tegyél pipát a neve melletti házikóba!




- Mihály
 Adrás
 Anna
 Veronka

Nu se completează de către elev
COD

8.

9. A következő táblázatban Anna által egy nap alatt elolvasott oldalak találhatóak. A hiányzó számok a kedvenc oldalait jelölik. Melyek ezek a kedvenc oldalak növekvő sorrendben?

Karikázd be a helyes válasznak megfelelő betűt!

53		55	56
57	58	59	
	62	63	64
65	66	67	68

- a) 54, 61 és 60
b) 61, 60 és 54
c) 54, 60 és 61
d) 53, 59 és 62

Nu se completează de către elev
COD

9.

12. Mihálynek 15 lejmel megy a könyvesboltba. A könyvek árát a táblázatban láthatod:

Meséskönyv	9 lej
Verseskötet	7 lej
Kifestőskönyv	8 lej
Találós kérdéseket tartalmazó könyv	6 lej

Tud ennyi pénzből egy kifestőskönyvet és egy meséskönyvet vásárolni?

Magyarázd meg válaszodat!

Igen, mert _____

Nem, mert _____

Nu se completează de către elev
COD

12.

FELICITĂRI, AI AJUNS LA SFÂRȘITUL TESTULUI!!
MULȚUMIM PENTRU PARTICIPARE!