



EVALUAREA COMPETENȚELOR FUNDAMENTALE

LA FINALUL CLASEI a II-a

2016

Test 2

MATEMATICĂ

Județul / sectorul.....

Localitatea.....

Școala.....

Numele și prenumele elevei / elevului.....





.....

Clasa a II-a.....

Băiat

Fată

A második osztályos tanulók „Színes ősz” elnevezésű kollázst akarnak készíteni. Az elkészítéshez különböző képeket vágnak ki. A táblázatban megtalálod a kivágott képek számát.

			
levelek 234	fák 141	felhők 91	fecskék 182

1. Hány **levelet** és **fát** ábrázoló képet vágatok ki összesen? kérdezte a tanító néni.
Karikázd be a helyes válasz betűjelét!

- a) 141
- b) 234
- c) 375
- d) 385

Nu se completează de către elev
COD

1.

2. Mária összehasonlítja a **fát** ábrázoló képeket a **levelet** ábrázoló képekkel.
Hasonlítsd össze te is!
Az alábbi négyzetbe írd be a megfelelő <, =, > jelet!


141 234

Nu se completează de către elev
COD

2.

5. Irénke és Krisztina a felhőt ábrázoló képeket vágják ki. Irénke 5 lapot vág ki, laponként 4 képpel, Krisztina 5 lapot, laponként 6 képpel. Hány felhőt ábrázoló képet vágott ki Irénke és Krisztina együtt?

Az alábbi helyre írd le a megoldást!

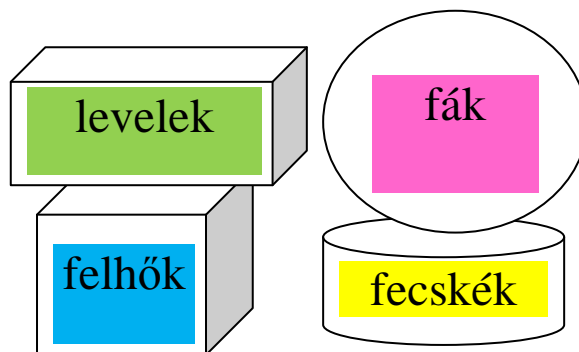


Nu se completează de către elev
COD

5.

6. A kollázshoz 100 képet vágtak ki amelyeket különböző dobozokba helyeztek el.

A dobozok a mellékelt ábra szerint vannak elhelyezve.



Az alábbi állítások közül melyik igaz?

Karikázd be a helyes válasz betűjelét!

- a) A fecskés doboz a felhős doboz fölött van.
- b) A felhős doboz a leveles doboz alatt van.
- c) A leveles doboz a fás dobozban van.
- d) A fás doboz a fecskés doboz alatt van.


Nu se completează de către elev
COD

6.

7. A gyerekek a kollázshoz kivágott 25 képet ötösével dobozokba helyezték el. Hány dobozt használtak a képek elosztásában?

Számítsd ki ismételt kivonással!

Az alábbi helyre írd le a megoldást!







Nu se completează de către elev
COD

7.

8. Azért, hogy könnyebben kiszámítsa a kivágott képek számát, János az alábbi módon csoportosította őket. Hány képet vágott ki János?

Számítsd ki ismételt összeadással!

Az alábbi helyre írd le a megoldást!



Nu se completează de către elev
COD

8.

9. A gyerekek 10:00 órától 14:00 óráig vágták a kollázshoz szükséges képeket.
Hány órát dolgoztak a képek kivágásával?
Karikázd be a helyes válasz betűjelét!

- a) 2 órát
- b) 3 órát
- c) 4 órát
- d) 5 órát

Nu se completează de către elev
COD

9.

10. A kivágott képeket az alábbi sorrendben helyezték el.
Milyen képek következnek a sorban?
Karikázd be a helyes válasz betűjelét!



- a)
- b)
- c)
- d)

Nu se completează de către elev
COD

10.

